


<p>Tanítók Fekete István Egyesülete</p>  <p>2023/24. tanév</p>	<b>MATEMATIKA</b>		
	Feladási határidő: <b>2023. december 8. (péntek)</b>		Postai cím: <b>Harmatcsepp 8500 Pápa, Pf. 57.</b>
	Forduló: <b>II.</b>	Évfolyam: <b>3.</b>	Az iskola kódja: <b>H-</b>
	<b>A versenyző neve:</b>		
	Elérhető pontszám: <b>35</b>	Elért pontszám:	Javította:

**Kedves Versenyző! Köszöntelek!**

**FONTOS információ, olvasd el figyelmesen!**

A szöveges feladatokat egymás után írom le, te pedig tetszőleges sorrendben oldhatod meg a négyzetrácsos lapon. Ne felejtse el a megoldások elé a feladat sorszámát odairni! (A feladat szövegét nem kell oda leírnod!) Ha másképp kérem, a feladat szövegénél mindig jelzem neked.

**Munkád során ügyelj a következőkre:**

- Minden lépést írd le, mert mindegyik pontot ér!
- A feladatok megoldása áttekinthető legyen!

A szöveges példák megoldásakor:

- Az adatokat pontosan jegyezd le! (Ha segít, készíthetsz rajzot is!)
- Készíts megoldási tervet!
- Lépésenként levezetve oldd meg a feladatot!
- Mindig ellenőrizd számolásodat!
- Külön sorban, és egész mondattal válaszolj a feltett kérdésre!
- Indokolhatsz akkor is, ha külön nem kérem!

Kérlek, hogy a feladatokat egyedül próbáld megoldani, a versenylapot te töltsd ki!

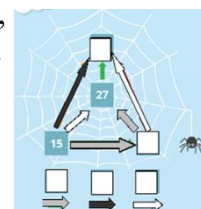
A határidőket pontosan tartsd be, hiszen a későn feladott feladatlapokat nem tudom értékelni!

Sikeres versenyzést kívánok!

1. Írd be a számokat a pókháló üres négyzeteibe! A nyilak azt jelölik, hogy mennyivel kell nagyobbak lennie a számnak abban a mezőben, ahová a nyíl mutat, attól a számtól, ahonnan a nyíl kiindul.

**A négyzetrácsos lapon megtalálod a nagyobb méretű képet.**

**Ott dolgozz!** Számolásokat is írd le!



8/

- 2.



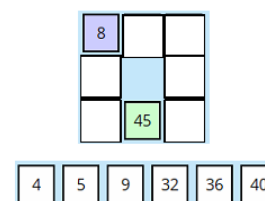
Mennyit nyomhat egy darab doboz? Írd be a mérleg alján lévő fehér négyzetbe! **A négyzetrácsos lapon megtalálod a nagyobb méretű képet. Ott dolgozz!** A számolásokat is írd le!

3/

3. Töltsd ki a bűvös négyzetet úgy, hogy a fehér mezőben azoknak a sarkon lévő számoknak a szorzata legyen, amelyek a középső mező mellett helyezkednek el!

A megadott számokat használd!

**A négyzetrácsos lapon megtalálod a nagyobb méretű képet. Ott dolgozz!** A számolásokat is írd le!



8/



**3. feladat**

8		
	45	

4	5	9	32	36	40
---	---	---	----	----	----

**4. feladat megoldása a feladatlapon található.**

**5. feladat**

